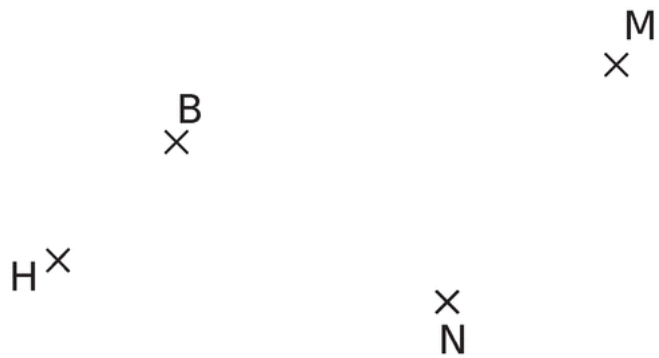


FEUILLE D'EXERCICES – CONSTRUCTIONS

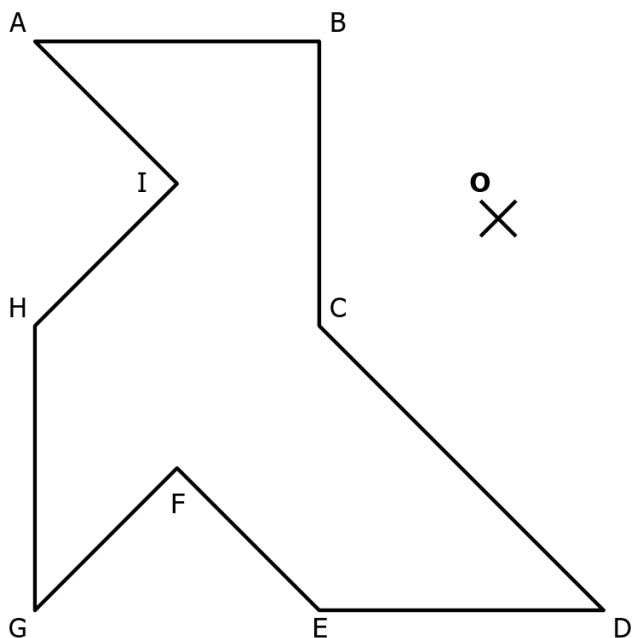
Exercice 1

Construis le symétrique par rapport à N de chacun des points B, H et M.



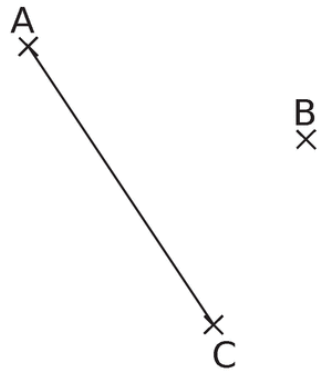
Exercice 3

Construis le symétrique par rapport à O de cette figure.



Exercice 3

1) Construis le symétrique du segment $[AC]$ par rapport au point B .

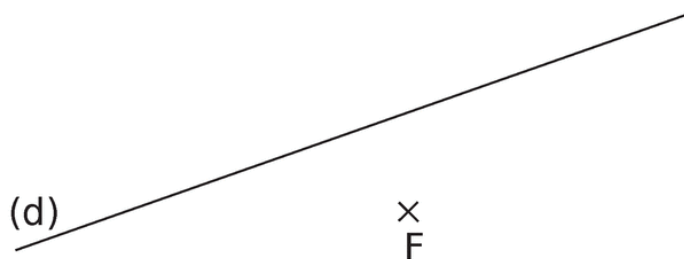


2) Complète.

L'image d'un segment par une symétrie centrale est
un segment _____ et de même _____
On dit que la symétrie centrale conserve les _____

Exercice 4

1) Construis le symétrique de la droite (d) par rapport au point F .



2) Complète.

L'image d'une droite une par symétrie centrale est une droite _____
On dit que la symétrie centrale conserve _____